






# EL PROBLEMA DEL DÍA: AGOSTO

Lunes	Martes	Miércoles	Jueves	Viernes	Sábado	Domingo
	Completa la serie: 9, 7, 5, 3... <input type="text"/>	Tengo 4 manzanas. Si me como 2, ¿cuántas me quedan? <input type="text"/>	$29 - 26 =$ <input type="text"/>	¿Cuántos lados tiene un cuadrado? <input type="text"/>	La letra <b>E</b> en el abecedario ocupa el sitio número... <input type="text"/>	Cuenta los lados del hexágono:  <input type="text"/>
$4 + 3 =$ <input type="text"/>	Cuenta los pétalos:  <input type="text"/>	Qué hora indica el reloj:  <input type="text"/>	Escribe el número:  <input type="text"/>	12 menos 1 es igual a: <input type="text"/>	Cuenta de 2 en 2 y completa: 6, 8, 10, ... <input type="text"/>	Resuelve: 15 menos 2. <input type="text"/>
$7 + 7 =$ <input type="text"/>	3 grupos de 5 es igual a: <input type="text"/>	26 menos 10 es igual a: <input type="text"/>	¿Qué número va antes del 18? <input type="text"/>	$20 - 2 =$ <input type="text"/>	¿Qué número va después del 18? <input type="text"/>	Dos grupos de 10 es igual a: <input type="text"/>
Completa la serie: 15, 17, 19, ... <input type="text"/>	¿Qué número es mayor 22 o 19? <input type="text"/>	$20 + 3 =$ <input type="text"/>	¿Cuáles el doble de 12? <input type="text"/>	$10 + 15 =$ <input type="text"/>	Hay 30 niños en clase. Hoy faltan 4, ¿cuántos niños hay en clase hoy? <input type="text"/>	Encuentra el número entre 26 y 28. <input type="text"/>
Encuentra el número que falta: $1 + ? = 29$ <input type="text"/>	$30 - 1 =$ <input type="text"/>	Completa la serie: 15, 20, 25, ... <input type="text"/>	Encuentra el número impar: 2, 12, 22, 31, 32 <input type="text"/>	