

EL PROBLEMA DEL DÍA: JULIO



Lunes

Martes




Miércoles

Jueves

Viernes

Sábado

Domingo



$50 - 49 =$

Qué hora indica el reloj:



¿Cuántas ruedas tiene un triciclo?

¿Cuántos lados tiene un rectángulo?

Completa la serie:
25, 20, 15, 10, ...

Escribe el número:



¿Cuántos días tiene 1 semana?

Cuenta de 2 en 2 y completa:
2, 4, 6, ...

Resuelve la suma de 6 y 3.

¿Cuántos dedos tenemos en total en las manos?

Grin tiene 12 galletas. Si se come una, ¿cuántas quedan?

¿Cuántos huevos son una docena?

¿Qué número va antes del 14?

$20 - 6 =$

¿Qué número va después del 14?

$6 + 6 + 4 =$

Completa la serie:
9, 11, 13, 15, ...

Ana, Eva y Oto tienen 6 galletas cada uno. ¿Cuántas tienen en total?

¿Qué número es menor 19 o 20?

Tienes dos grupos de 10 peces. ¿Cuántos tienes en total?

$7 + 7 + 7 =$

Grin y Kely comieron 11 frutas cada uno. ¿Cuántas comieron en total?

Encuentra el número entre 22 y 24.

¿Cuántas horas tiene un día?

.....

$30 + 1 =$

Encuentra la diferencia entre 75 y 50.

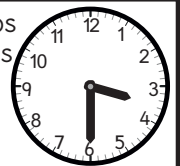
¿Cuál es el doble de 13?

Encuentra el número impar:
4, 12, 20, 27, 28

48 menos 20 es igual a:

Encuentra el número que falta:
 $1 + ? = 30$

Cuántos minutos indica el reloj:



EL PROBLEMA DEL DÍA: JULIO



					1	2
3	4	5	6	7	8	9
10	11	12	13	14	15	16
17	18	19	20	21 ^B	22	23
24	25	26	27	28	29	30
31						